


Lewensvaardighede 2 (Aanvangskennis en Skeppende Kunste) – Graad 2

Welkom by ons Conquesta Olimpiade.
Lees al die vrae noukeurig.

(Onderwyserbystand word toegelaat deur
die teks hardop uit te lees.)

Jy moet besluit watter een is die regte
antwoord vir elke vraag – en dan 'n
sirkel rondom (a), (b), (c) of (d) aan die
reghoek van elke vraag trek. Jy mag
net een antwoord vir elke vraag kies.



Voorbeeld:

Die son is 'n



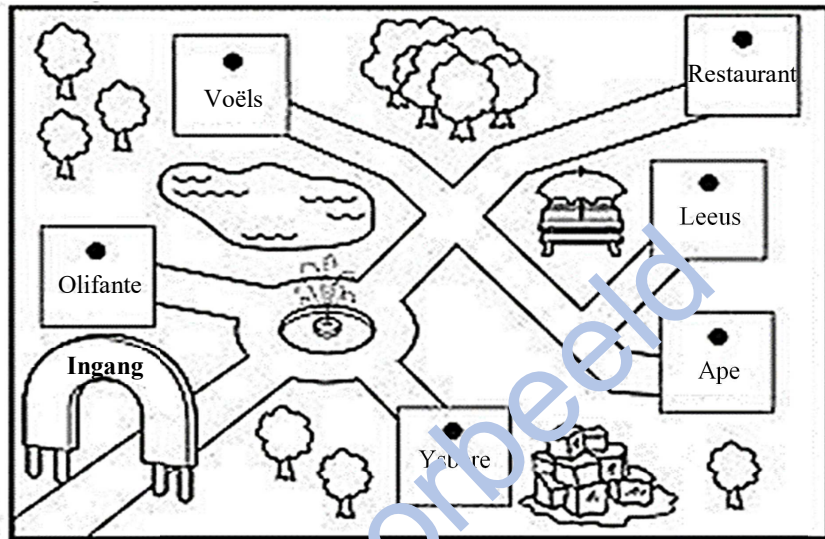
(a)
maan

(b)
planeet












(c)
ster

(d)
meteoriet

Bestudeer die diagram en omring die korrekte antwoorde vir vrae 1 – 8.



1.	Ek loop in by die ingang en draai regs by die fontein. Ek sien die	(a) olifante	(b) ysbere	(c) voëls	(d) ape
----	--	-----------------	---------------	--------------	------------

2.	Die teenoorgestelde van 'ingang' is	(a) gaan	(b) ontsnap	(c) kom binne	(d) uitgang	
3.	Watter simbool verteenwoordig 'n restaurant?					
4.	Die restaurant is	(a) die naaste aan die ingang	(b) langs die voëls	(c) die verste punt in die dieretuin	(d) langs die ape	
5.	Watter simbool kan gebruik word om ysbere aan te dui?					
6.	Watter geluid maak 'n leeu?		(a) blêi	(b) trompetter	(c) brul	(d) kletter
7.	Ons noem 'n klein leeutjie 'n		(a) welpie	(b) kalf	(c) wyfieleeu	(d) hondjie
8.	Wat beteken hierdie simbool op die kaart?		(a) Jy kan hier sonbad.	(b) Jy kan hier 'n piekniek hou.	(c) Jy kan die voëls hier voer.	(d) Die ape sit hier wanneer dit reën.