



Sosiale Wetenskappe – Graad 5

Welkom by jou Conquesta Olimpiade. Wanneer jy besluit het watter van die antwoorde die korrekte een is, krap die letter op die ooreenstemmende blokkie op jou antwoordvel dood. Byvoorbeeld:- As die antwoord op vraag 4 c is, krap die letter c in die blokkie wat c langs nommer 4 bevat, dood (*sien voorbeeld 1 hieronder*). Indien 'n leerder 'n fout maak en eerder b as die antwoord wil merk, moet c netjies doodgetrek word en b gemerk word (*sien voorbeeld 2 hieronder*).

Voorbeeld 1:-

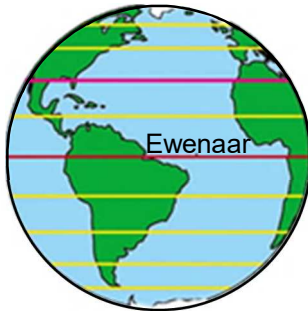
4.	a	b	c	d
----	---	---	--------------	---

Voorbeeld 2:-

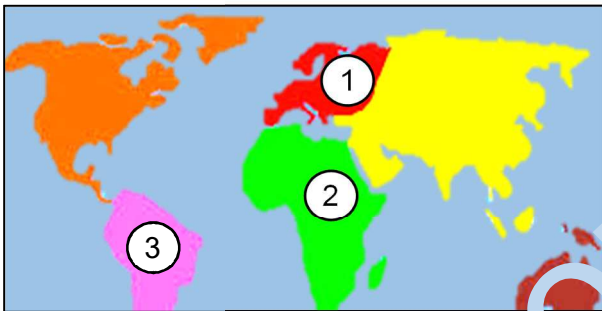
4.	a	b	c	d
----	---	--------------	--------------	---

1. Die ewenaar is

- (a) 'n instrument wat gebruik word om rigtings aan te dui.
- (b) 'n groot landmassa op Aarde.
- (c) 'n denkbeeldige lyn wat die aarde in noord en suid verdeel.
- (d) omring deur land, sonder 'n kuslyn.



Gebruik die kaart hieronder om vrae 2 – 5 te beantwoord.



2. Wat is die naam van die vasteland wat 1 genommer is?

- (a) Asië. (b) Engeland. (c) Afrika. (d) Europa.

3. Watter oseaan skei die vastelande wat 2 en 3 genommer is?

- (a) Indiese. (b) Atlantiese.
- (c) Stille. (d) Mediterreense.

4. Afrika is 2 genommer op die kaart en staan bekend as die grootste vasteland in die wêreld.

- (a) 2^{de} (b) 3^{de}
- (c) 4^{de} (d) Nie een van bostaande.

5. Watter oseaan grens aan Afrika se oostekant?

- (a) Indiese.
- (b) Atlantiese.
- (c) Stille.
- (d) Mediterreense.



Suid-Afrika grens aan 6 buurstate.

6. Kies die korrekte antwoord met lande wat aan Suid-Afrika grens.

- (a) Botswana, Mosambiek en Zambië.
- (b) Eswatini, Zimbabwe en Madagaskar.
- (c) Mosambiek, Lesotho en Angola.
- (d) Namibië, Lesotho en Botswana.

Pas een fisiese eienskap in (a) – (d) by die prente by vrae 7 en 8.

- (a) Rivier. (b) Waterval.
- (c) Woestyn. (d) Berg.

7.



8.

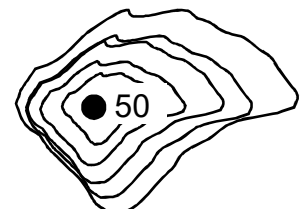


9. Wat dui politieke kaarte aan?

- (a) Plekke wat deur mense gemaak is, soos lande en stede.
- (b) Die natuurlike eienskappe van 'n gebied, soos berge en riviere.
- (c) Bakens in die natuur, soos berge en riviere.
- (d) Al bostaande.

10. 'n is 'n simbool op 'n kaart wat 'n hoë punt toon.

- (a) Seespieël
- (b) Rooi kruis
- (c) Blou lyn
- (d) Reliëfpunt





11. Afrika se hoogste berg is
- (a) Tafelberg. (b) berg Fidji.
(c) berg Kenia. (d) berg Kilimandjaro.

12. 'n Roosterverwysing bevat
- (a) slegs nommers.
(b) slegs letters.
(c) nommers en letters.
(d) Nie een van bostaandie nie.

13. 'n Kusvlakte is
- (a) waar land en see ontmoet.
(b) laagliggende land wat naby die see is.
(c) 'n hoë, plat binnelandse deel van 'n land.
(d) 'n steil helling tussen 'n plato en 'n laerliggende gebied.

14. Wat word deur die uKhahlamba-Drakensberge gevorm?
- (a) 'n Plato. (b) 'n Vallei.
(c) 'n Heuwel. (d) 'n Platorand (*eskarperment*).



15. Kyk na die kaart hieronder. Wat is provinsie het die langste kuslyn?
- (a) Noord-Kaap. (b) Wes-Kaap.
(c) Oos-Kaap. (d) KwaZulu-Natal.



Pas die fisiese eienskappe in (a) – (d) by die prente in vrae 16 en 17.

- (a) Baai. (b) Heuwel.
(c) Vallei. (d) Bergreeks.



18. 'n Makwaland is droog en sandrig, maar is bekend vir die
- (a) blomme (b) vrugte.
(c) groente. (d) Al bostaande.



Etlike plekke word name gegee wat hul fisiese eienskappe beskryf. 'Die Hole in the Wall' in die Oos-Kaap staan ook bekend as 'izi Khaleni'.

19. 'izi Khaleni' is 'n woord, wat beteken 'plek van donder'.

- (a) Swazi
(b) Sotho
(c) Venda
(d) Xhosa

